

Aufgabenblatt 2

Besprechung am Dienstag, den 16. Mai 2006, 8:00 Uhr V38.01

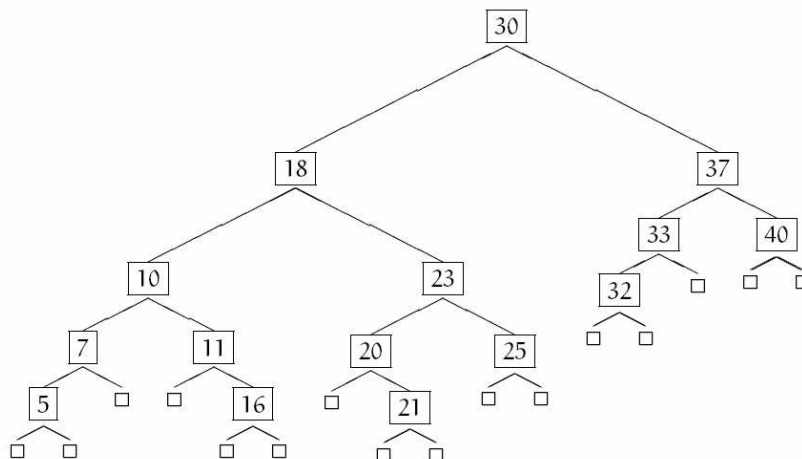
Aufgabe 1: (AVL-Bäume teilweise ehemalige Klausuraufgabe)

Ein AVL-Baum ist ein binärer Suchbaum, in dem sich für jeden Knoten p die Höhe der beiden Teilbäume von p um höchstens 1 unterscheidet. Solche Bäume heißen höhenbalanciert.

a) Fügen Sie folgende Schlüssel in der angegebenen Reihenfolge in einen AVL-Baum ein:
 $S = (45; 25; 15; 13; 12; 11; 8; 7; 50; 53; 35; 63; 52; 67; 9; 10)$

Geben Sie dabei bei jedem Einfügeschritt den entstandenen Baum sowie die angewandten Rotationen an.

b) Geben Sie für den AVL-Baum an, in welcher Reihenfolge die Schlüssel möglicherweise eingefügt wurden, wenn man davon ausgeht, dass keine Rotationen zur Rebalancierung notwendig waren.



c) Löschen Sie aus dem obigen Baum sukzessiv die Schlüsselwerte 16, 30, 40 und 11. Geben wieder nach jedem Löschvorgang den entstandenen Baum sowie die benutzten Rotationen an.

d) Fügen Sie sukzessiv die Schlüssel 10, 20, 30, 40, 50, 60 und 70 in einen anfangs leeren AVL-Baum ein. Löschen Sie sukzessiv die Schlüssel 10, 20 und 40 aus dem Baum.

e) Bauen Sie sukzessive aus folgenden Schlüsseln einen AVL-Baum auf:
 4, 5, 7, 2, 1, 3, 6

f) Fügen Sie in einen anfangs leeren AVL-Baum nacheinander die Monatsnamen ein. Gehen Sie von einer lexikographischen Ordnung aus.

Aufgabe 2 (Höhe von AVL-Bäumen)

a) Gegeben sei ein AVL-Baum mit 10^5 Knoten, die vollständig im Hauptspeicher Platz finden, und mit einer Verarbeitungszeit von 10^{-6} Sekunden pro Vergleich. Wie lang dauert die erfolgreiche Suche nach einem Schlüssel im schlechtesten Fall?

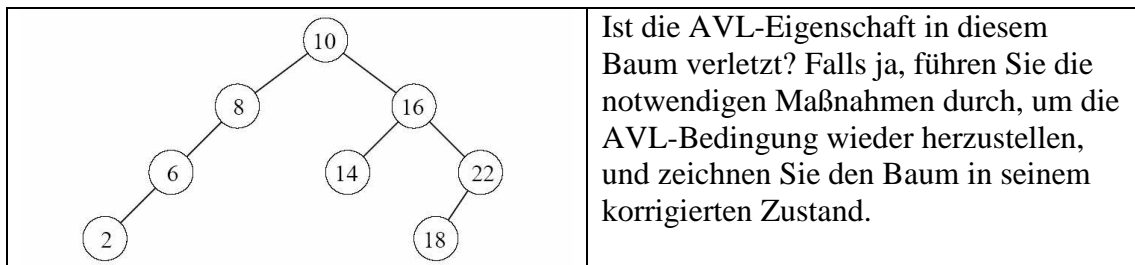
b) Geben Sie einen AVL-Baum der Höhe 5 an, der möglichst wenig Knoten besitzt.

c) Zeichnen Sie einen AVL-Baum mit Tiefe 4, bei dem der rechte Teilbaum der Wurzel möglichst wenige Knoten enthält und der linke möglichst viele. Wie groß ist der Unterschied in der Anzahl der Knoten?

d) Ist ein AVL-Baum auch α -gewichtsbalanciert oder umgekehrt?

Aufgabe 3 (AVL-Bäume - ehemalige Klausuraufgabe)

Gegeben sei folgender AVL-Baum direkt nach dem Einfügen eines neuen Elements:



Führen Sie danach folgende Operationen in diesem AVL-Baum in der angegebenen Reihenfolge durch und zeichnen Sie den Baum nach jeder Operation. Achten Sie darauf, dass die AVL-Eigenschaft immer erhalten bleibt.

a) Fügen Sie 19 in den AVL-Baum ein.

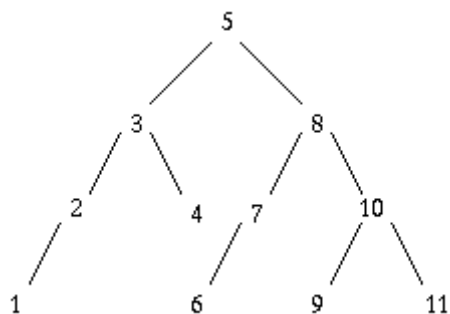
b) Fügen Sie 7 in den AVL-Baum ein.

c) Löschen Sie 22 aus dem AVL-Baum.

d) Fügen Sie 13 in den AVL-Baum ein.

Aufgabe 4 (Löschen in AVL-Bäumen)

Gegeben sei folgender AVL – Baum:



Löschen Sie aus dem Baum sukzessive die folgenden Schlüssel: 4, 8, 6, 5, 2

Aufgabe 5: (AVL Bäume)

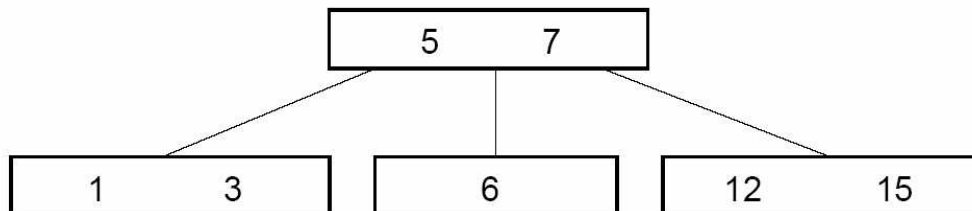
- a) Geben Sie den AVL-Baum an, der durch Einfügen der Schlüssel 1; 2; 1; 9; 12; 11; 9; 10; 3; 4; 5 in einen leeren Baum entsteht.
- b) Gibt es zu jedem AVL-Baum T eine Einfügereihenfolge der Schlüssel, die zu diesem Baum führt, **ohne** dass Rotationen stattfinden? Falls ja, geben Sie einen Beweis an, andernfalls ein Gegenbeispiel.

Aufgabe 6: (AVL Bäume)

Fügen Sie die Monatsnamen nacheinander in einen lexikographisch geordneten, anfangs leeren AVL-Baum ein. Wenn immer eine Rebalancierung notwendig ist, zeichnen Sie den Baum.

Aufgabe 7 (Einfügen eines Knotens in einen B-Baum)

Gegeben ist folgender B-Baum der Ordnung 1.



Fügen Sie den Schlüssel 14 ein, und strukturieren Sie den Baum ggf. um. Zeichnen und erklären Sie die einzelnen Schritte des Einfügens.

Aufgabe 8 (Aufbau von B-Bäumen)

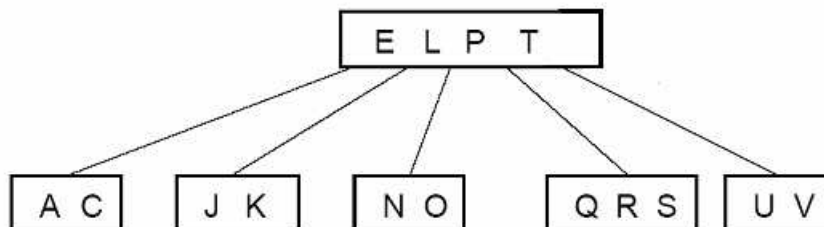
a) Fügen Sie die Folge 1; 2; 3; 4; 15; 14; 7; 8; 9; 12; 11 in dieser Reihenfolge in einen anfangs leeren B-Baum der Ordnung 2 ein. Zeichnen Sie den B-Baum jeweils nach dem Einfügen eines Elements.

b) Zeichnen Sie einen B-Baum der Ordnung 1, in den die Folge
1; 3; 5; 6; 7; 8; 9; 10; 11; 12; 13; 14; 15; 16

in aufsteigend - sortierter Reihenfolge eingefügt wird. Was beobachten Sie beim Einfügen?

Aufgabe 9 (Löschen in B-Bäumen)

Gegeben ist folgender B-Baum



a) Welche Ordnung hat der Baum? Was ist die minimale und maximale Schlüsselzahl bei dieser Ordnung?

b) Zeigen Sie die Ergebnisse der Delete - Operationen für die Schlüssel C, P und V (in dieser Reihenfolge).

Aufgabe 10 (Höhe in B-Bäumen)

Bei einem B-Baum vom Grad m haben die Knoten zwischen m und $2m$ Elemente; die Wurzel hat zwischen 1 und $2m$ Elemente. Alle Blätter haben gleiche Tiefe.

Zeigen Sie, dass in einem B-Baum vom Grad m bei einer Zahl von n Knoten die Höhe h immer begrenzt ist durch

$$h \leq 1 + \log_{(m+1)} \left(\frac{n+1}{2} \right)$$

Berechnen Sie damit die maximale Höhe eines B-Baumes vom Grad 128 für eine Million bzw. eine Milliarde Knoten.

Aufgabe 11 (Eigenschaften von B-Bäumen)

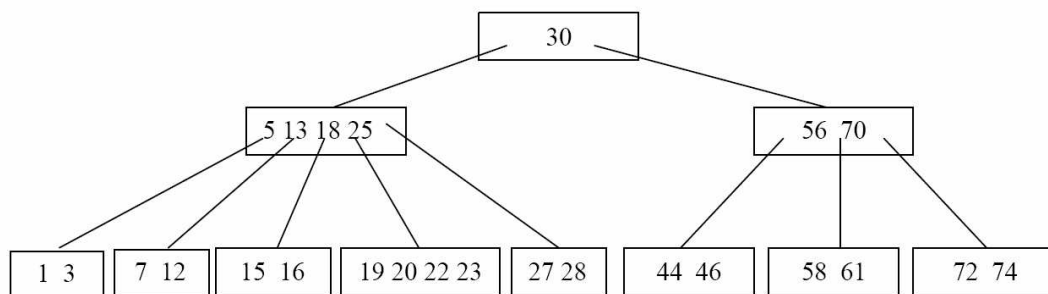
Gegeben ist folgende Schlüsselmenge: { 1, 3, 5, 6, 7, 12, 15 }

a) Welche minimale Höhe hat ein B-Baum der Ordnung $m=1$, der diese Schlüssel speichert?

b) Gibt es eine größere Schlüsselmenge, für die die minimale B- Baum -Höhe denselben Wert wie unter a) hat?

c) Welche maximale Höhe hat ein B - Baum der Ordnung $m=1$, der diese Schlüssel speichert?

Aufgabe 12 (Operationen auf B-Bäumen)



Führen Sie die folgenden Operationen jeweils auf dem gegebenen B-Baum der Ordnung $m = 2$ durch.

- a) Einfügen von 24
- b) Löschen von 44

Aufgabe 13 (Aufbau von B-Bäumen)

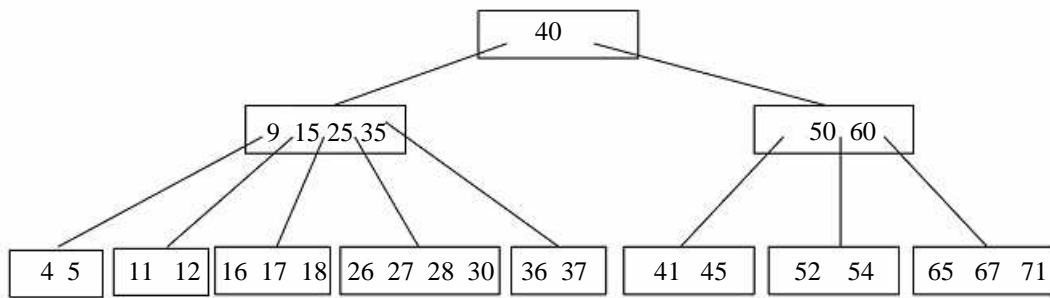
a) Konstruieren Sie einen (zu Beginn leeren) B-Baum der Ordnung 2 durch Einfügen der folgenden Schlüssel:

48, 23, 35, 66, 7, 3, 71, 12, 55, 2, 1, 9, 10, 25, 39, 42, 91, 84, 74.

b) Löschen Sie in dem entstandenen B-Baum folgende Schlüssel:

35, 9, 55, 84, 91, 23, 12, 7, 10, 3, 25, 39, 1, 2, 71.

Aufgabe 14: (B-Bäume – ehemalige Klausuraufgabe)



Welche Ordnung hat der gegebene B-Baum? Führen Sie die Operationen ‚Einfügen von 29‘ und ‚Löschen von 41‘ durch (9P).

Aufgabe 15 (Hashing – ehemalige Klausuraufgabe)

Gegeben sei für $m = 13$ die Hashfunktion $h(k) = k \bmod m$ und die Kollisionsstrategie Doppel-Hashing mit $h_i(k) = (h(k) + i \cdot (1 + k \bmod 7)) \bmod m$. In welcher Reihenfolge sind Schlüssel in eine zunächst leere Hashtabelle eingefügt worden, wenn die Hashtabelle wie folgt gefüllt ist:

Speicherzelle i	0	1	2	3	4	5	6	7	8	9	10	11	12
Belegung	23					60		33	7		8		

Beschreiben Sie die Kollisionstypen des Elementes 60.

Gegeben sei für $m = 7$ die Hashfunktion $h(k) = k \bmod m$ und die Kollisionsstrategie ‚Lineares Sondieren‘ mit $h_i(k) = (h(k) + i) \bmod m$. Die Hashtabelle ist wie folgt gefüllt:

Speicherzelle i	0	1	2	3	4	5	6
Belegung	13	7	0	3	20		6

Löschen Sie das Element ‚7‘ (an der Stelle 1) und reorganisieren Sie die Hashtabelle nach dem in der Vorlesung vorgestellten Verfahren ohne Verwendung eines ‚gelöscht Bit‘ und ohne Rehashing anzuwenden.

Allgemeine Hinweise:

- Bei weiteren Fragen, wenden Sie sich bitte an W. Schmid (sltsoftware@yahoo.de).
- Weitere Hinweise finden Sie auf unserer Veranstaltungswebseite unter:
<http://www.info2.de.vu>
<http://www.zusatzkurs.de.vu>